

El/la alumno/a deberá elegir uno de los dos repertorios completos de examen, sin posibilidad de que se puedan combinar preguntas de ambos.

La puntuación total de cada uno de los repertorios será de 10 puntos, pudiendo modificarse en un punto la calificación final por la presentación, ortografía y calidad de redacción a juicio del corrector.


REPERTORIO A

1.- Responda a uno de los temas siguientes:

- a.- La problemática medioambiental en España.
- b.- Los paisajes agrarios en España.

La respuesta se desarrollará, como máximo, en dos páginas, y se valorará con tres puntos.

2.- A la vista de la fotografía siguiente:



- a.- Comente las características del emplazamiento de este núcleo de población.
- b.- Describa y explique los principales rasgos de su plano urbano.

El comentario se desarrollará en la cara de un folio y se valorará con tres puntos.

3.- Defina brevemente los siguientes términos geográficos:

- Fondos Estructurales (UE).
- CBD.
- Reconversión Industrial.
- Balanza Comercial.
- Tasa Bruta.

Cada una de las respuestas se valorará con 0.4 puntos, hasta un total de dos puntos.

4.- En uno de los folios del examen, relacione—de NE a SW— las provincias atravesadas por la línea, así como las grandes unidades del relieve y los ríos principales.



La respuesta se valorará con un máximo de dos puntos.

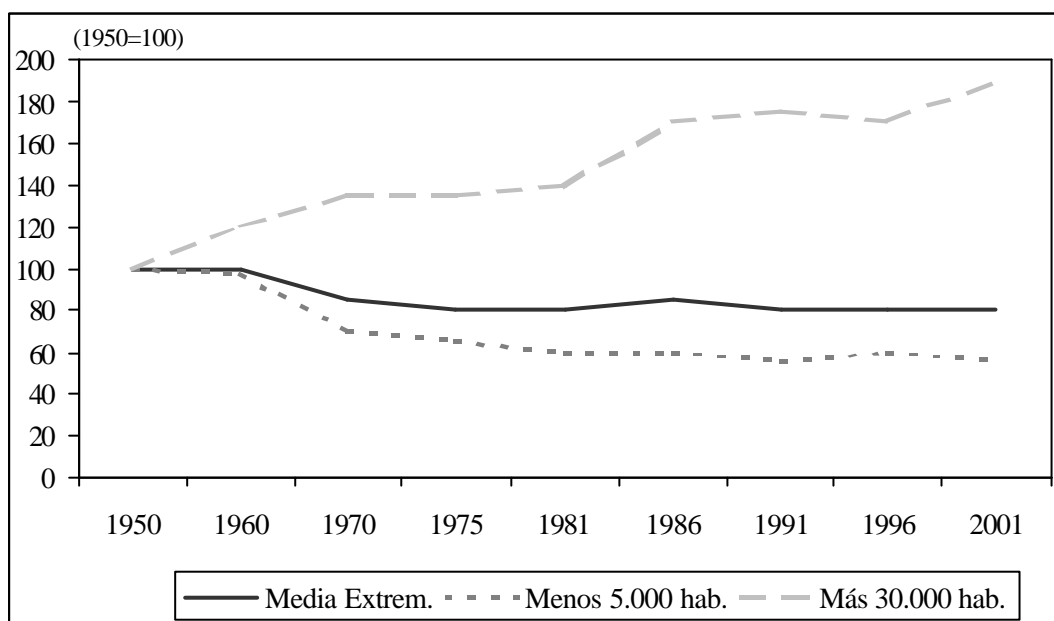
REPERTORIO B

1.- Responda a uno de los temas siguientes:

- a.- Las regiones españolas y su evolución histórica.
- b.- El turismo en España.

La respuesta se desarrollará, como máximo, en dos páginas, y se valorará con tres puntos.

2.- A la vista del gráfico siguiente sobre la evolución de la población por tamaño de los municipios en Extremadura (1950-2001)



a.- Indique las principales diferencias entre las tres tendencias.

b.- Explique estas diferencias en función de las posibles causas que las han podido generar.

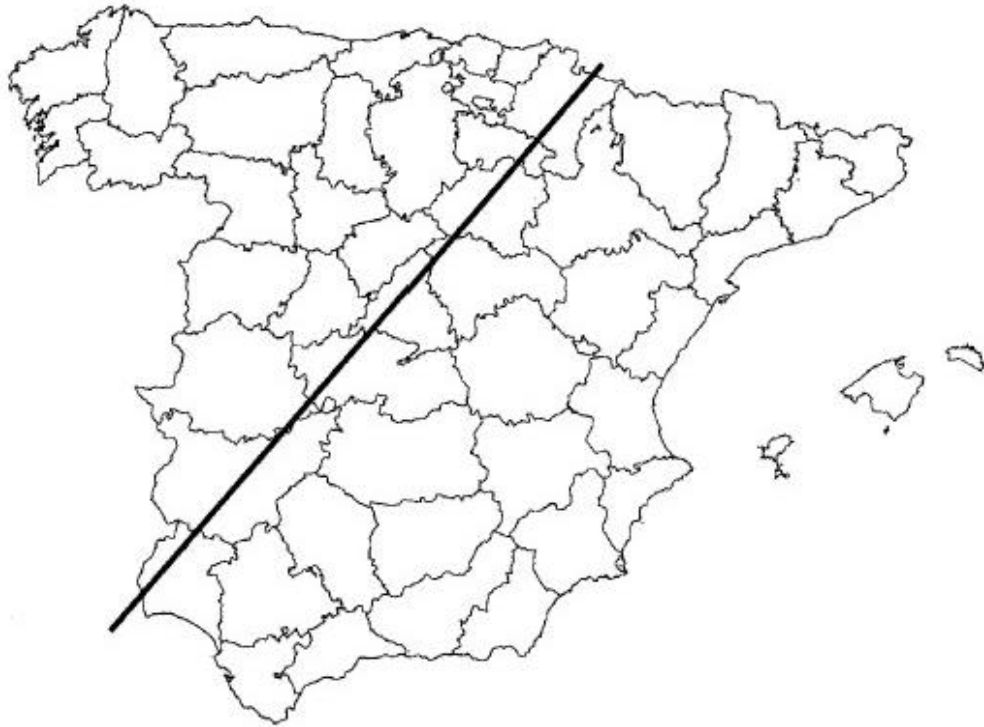
El comentario se desarrollará en la cara de un folio y se valorará con tres puntos.

3.- Defina brevemente los siguientes términos geográficos:

- Isoyetas.
- Penillanura.
- ZEPA.
- Agrícola.
- Barrios marginales.

Cada una de las respuestas se valorará con 0.4 puntos, hasta un total de dos puntos.

4.- En uno de los folios del examen, relacione—de NE a SW— las provincias atravesadas por la línea, así como las grandes unidades del relieve y los ríos principales.



La respuesta se valorará con un máximo de dos puntos.